

數學謎題

姓名：_____ 班別：_____

請你猜一猜，下面算式中的“好”、“快”、“樂”分別代表甚麼數字，這算式才能成立？

$$\begin{array}{r}
 \text{快} \quad 0 \\
 - 2 \quad \text{樂} \quad \text{好} (\quad) \\
 \hline
 5 \quad \text{樂} \quad \text{快} (\quad) \\
 + \text{好} \quad 1 \quad \text{樂} (\quad) \\
 \hline
 7 \quad 6
 \end{array}$$

數學謎題 I

姓名：_____ 班別：_____

請你猜一猜，下面算式中的“好”、“快”、“樂”分別代表甚麼數字，這算式才能成立？

$$\begin{array}{r}
 \text{快} \quad 0 \\
 - 2 \quad \text{樂} \quad \text{好} (\quad) \\
 \hline
 5 \quad \text{樂} \quad \text{快} (\quad) \\
 + \text{好} \quad 1 \quad \text{樂} (\quad) \\
 \hline
 7 \quad 6
 \end{array}$$

數學謎題 I

姓名：_____ 班別：_____

請你猜一猜，下面算式中的“好”、“快”、“樂”分別代表甚麼數字，這算式才能成立？

$$\begin{array}{r}
 \text{快} \quad 0 \\
 - 2 \quad \text{樂} \quad \text{好} (\quad) \\
 \hline
 5 \quad \text{樂} \quad \text{快} (\quad) \\
 + \text{好} \quad 1 \quad \text{樂} (\quad) \\
 \hline
 7 \quad 6
 \end{array}$$

數學謎題 I

姓名：_____ 班別：_____

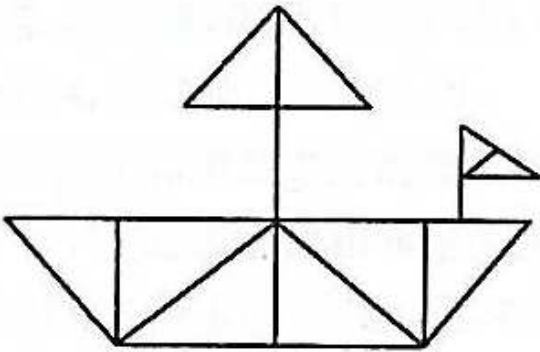
請你猜一猜，下面算式中的“好”、“快”、“樂”分別代表甚麼數字，這算式才能成立？

$$\begin{array}{r}
 \text{快} \quad 0 \\
 - 2 \quad \text{樂} \quad \text{好} (\quad) \\
 \hline
 5 \quad \text{樂} \quad \text{快} (\quad) \\
 + \text{好} \quad 1 \quad \text{樂} (\quad) \\
 \hline
 7 \quad 6
 \end{array}$$

數學謎題 2

姓名：_____ 班別：_____

數一數，下圖中有多少個三角形？

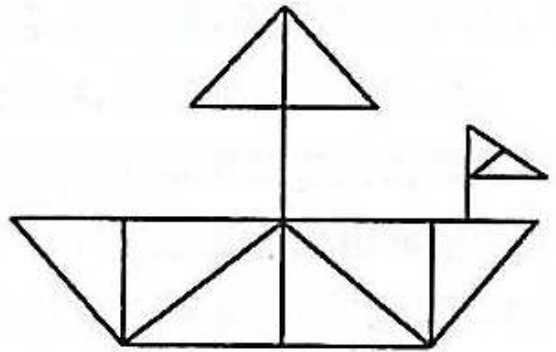


答案：_____ 個

數學謎題 2

姓名：_____ 班別：_____

數一數，下圖中有多少個三角形？

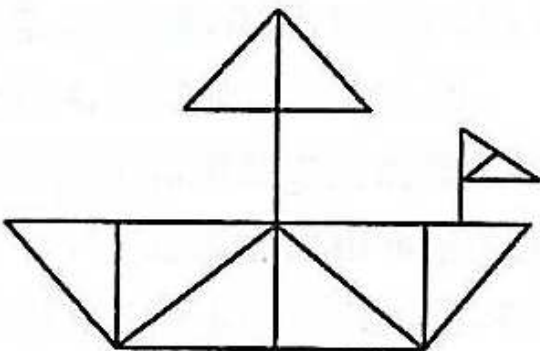


答案：_____ 個

數學謎題 2

姓名：_____ 班別：_____

數一數，下圖中有多少個三角形？

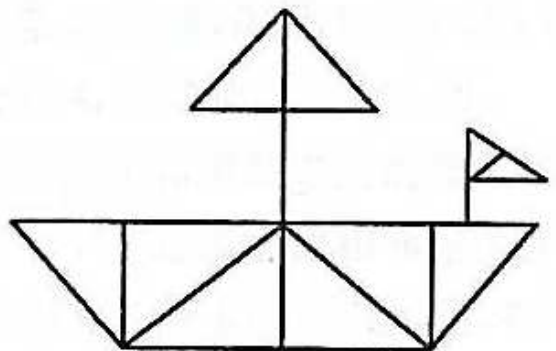


答案：_____ 個

數學謎題 2

姓名：_____ 班別：_____

數一數，下圖中有多少個三角形？



答案：_____ 個

數學謎題 3

姓名：_____ 班別：_____

請你把 1, 2, 3, 4, 5, 6, 7, 8 分別填在空格內，使橫直四個等式都成立。

	-		=	
÷				+
	×		=	

數學謎題 3

姓名：_____ 班別：_____

請你把 1, 2, 3, 4, 5, 6, 7, 8 分別填在空格內，使橫直四個等式都成立。

	-		=	
÷				+
	×		=	

數學謎題 3

姓名：_____ 班別：_____

請你把 1, 2, 3, 4, 5, 6, 7, 8 分別填在空格內，使橫直四個等式都成立。

	-		=	
÷				+
	×		=	

數學謎題 3

姓名：_____ 班別：_____

請你把 1, 2, 3, 4, 5, 6, 7, 8 分別填在空格內，使橫直四個等式都成立。

	-		=	
÷				+
	×		=	

數學謎題 4

數學謎題 4

姓名：_____

班別：_____

姓名：_____

班別：_____

			2		8	1		
4		5	7		1	8		
1				5			7	4
6	9	7			3	2	4	
	1	3	6			7	9	5
3	5			6				9
		2	4		9	5		7
		9	1		5			

			2		8	1		
4		5	7		1	8		
1				5			7	4
6	9	7			3	2	4	
	1	3	6			7	9	5
3	5			6				9
		2	4		9	5		7
		9	1		5			

數學謎題 4

數學謎題 4

姓名：_____

班別：_____

姓名：_____

班別：_____

			2		8	1		
4		5	7		1	8		
1				5			7	4
6	9	7			3	2	4	
	1	3	6			7	9	5
3	5			6				9
		2	4		9	5		7
		9	1		5			

			2		8	1		
4		5	7		1	8		
1				5			7	4
6	9	7			3	2	4	
	1	3	6			7	9	5
3	5			6				9
		2	4		9	5		7
		9	1		5			